



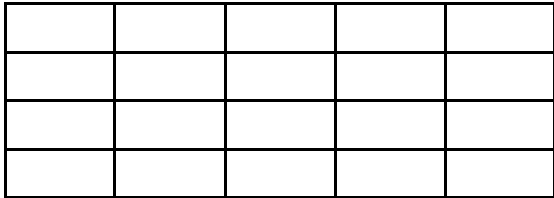
Résolution de problèmes - CE2
Ceinture verte

Série 5

1. Ma commode est composée de 6 rangées de 4 tiroirs.
Combien y a-t-il de tiroirs dans ma commode? 

2. Une feuille de cahier à 14 carreaux dans la largeur et
21 carreaux dans la hauteur.
Combien y a-t-il de carreaux sur la feuille? 

3.



Combien me faut-il de figurines pour remplir ma
boite?


4. Dans un seau, un fleuriste a disposé 10
bouquets de tulipes. Dans chaque bou-
quet, il y a 9 fleurs.





Combien y a-t-il de tulipes en tout dans le seau?

Résolution de problèmes - CE2
Ceinture verte

Série 6

1. Clara a rempli 52 pages de son album de
timbres. Chaque page contient 32 timbres.
Combien possède-t-elle de timbres? 

2. Un lustre est équipé de 8 ampoules.
Combien faudra-t-il d'ampoules pour équiper
5 lustres? 

3. Dans une caisse de supermarché, il y a
44 billets de 100€.
Quelle somme y a-t-il dans la caisse? 

4. Dans un parking, le stationnement coûte
12€ par jour.



Combien paiera-t-on pour stationner 20 jours?